

No.21

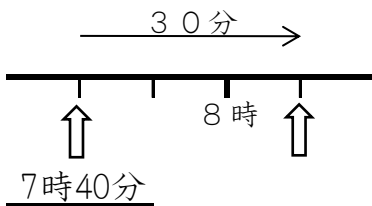
3年 組 番 名前( )

- ①  $8 \div 4 = 2$     ②  $18 \div 2 = 9$     ③  $16 \div 4 = 4$   
 ④  $10 \div 2 = 5$     ⑤  $48 \div 8 = 6$     ⑥  $20 \div 5 = 4$   
 ⑦  $18 \div 3 = 6$     ⑧  $81 \div 9 = 9$     ⑨  $21 \div 7 = 3$   
 ⑩  $28 \div 4 = 7$     ⑪  $27 \div 3 = 9$     ⑫  $64 \div 8 = 8$   
 ⑬  $56 \div 7 = 8$     ⑭  $42 \div 6 = 7$     ⑮  $30 \div 6 = 5$   
 ⑯  $21 \div 7 = 3$     ⑰  $30 \div 5 = 6$     ⑱  $20 \div 4 = 5$

\* 時間や時こくについて 答えなさい。

- ① 1日 =  時間    ② 1時間 =  分  
 ③ 1分よりみじかい時間のたんいに  があります。  
 1分 =  秒

④ 家を7時40分に出て、30分歩いて学校につきました。ついた時こくは何時何分ですか。



- ⑤ 80秒は 何分何秒ですか。   
 ⑥ 95秒は何分何秒ですか。

No.22

3年 組 番 名前( )

- ①  $21 \div 7 = 3$     ②  $24 \div 6 = 4$     ③  $18 \div 2 = 9$   
④  $9 \div 3 = 3$     ⑤  $8 \div 4 = 2$     ⑥  $42 \div 7 = 6$   
⑦  $40 \div 8 = 5$     ⑧  $28 \div 7 = 4$     ⑨  $45 \div 9 = 5$   
⑩  $12 \div 6 = 2$     ⑪  $30 \div 6 = 5$     ⑫  $64 \div 8 = 8$   
⑬  $3 \div 3 = 1$     ⑭  $10 \div 2 = 5$     ⑮  $9 \div 3 = 3$   
⑯  $45 \div 9 = 5$     ⑰  $48 \div 8 = 6$     ⑱  $63 \div 9 = 7$

\* 時間や時こくについて 答えなさい。

- ① 長いはりが 1目もり すすむ 時間を **1分** といいます。  
② 長いはりが 1まわりする時間は **60** 分間で **1時間** です。  
③ 1日 = **24** 時間    ④ 1時間 = **60** 分

\* ( ) にあてはまる, 時間のたんいを書きましょう。

- ⑤ 算数のじゅぎょうの時間    45 ( 分 )  
⑥ 1日にねる時間    9 ( 時間 )  
⑦ テレビコマーシャルの時間    15 ( 秒 )  
⑧ 授業の間の休けい時間    5 ( 分 )

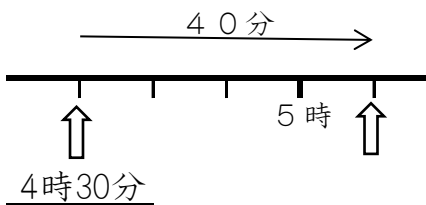
# No.23

3年 組 番 名前( )

- ①  $45 \div 9 = 5$     ②  $15 \div 3 = 5$     ③  $4 \div 1 = 4$   
 ④  $30 \div 6 = 5$     ⑤  $40 \div 8 = 5$     ⑥  $42 \div 6 = 7$   
 ⑦  $24 \div 3 = 8$     ⑧  $48 \div 6 = 8$     ⑨  $36 \div 6 = 6$   
 ⑩  $7 \div 7 = 1$     ⑪  $15 \div 5 = 3$     ⑫  $4 \div 4 = 1$   
 ⑬  $16 \div 8 = 2$     ⑭  $56 \div 7 = 8$     ⑮  $12 \div 2 = 6$   
 ⑯  $42 \div 6 = 7$     ⑰  $35 \div 7 = 5$     ⑱  $32 \div 8 = 4$

\* 時間や時こくについて 答えなさい。

① 午後4時30分からお家で40分間おべんきょうをしました。おわった時こくは、午後何時何分ですか。



午後5時10分

- ② 長いはりが 1まわりする時間は  分間で、 です。  
 ③ 時計のみじかいはりが、1まわりする時間は  時間です。  
 ④ 1時間 =  分    ⑤ 1分 =  秒  
 ⑥ 午前9時10分から 20分後の時刻は、  
 ⑦ 午前9時10分から 20分前の時刻は、

No.24

3年 組 番 名前( )

- ①  $32 \div 4 = 8$     ②  $36 \div 6 = 6$     ③  $28 \div 4 = 7$   
 ④  $12 \div 2 = 6$     ⑤  $56 \div 7 = 8$     ⑥  $18 \div 3 = 6$   
 ⑦  $32 \div 4 = 8$     ⑧  $4 \div 2 = 2$     ⑨  $27 \div 9 = 3$   
 ⑩  $48 \div 8 = 6$     ⑪  $63 \div 7 = 9$     ⑫  $32 \div 4 = 8$   
 ⑬  $27 \div 9 = 3$     ⑭  $36 \div 6 = 6$     ⑮  $18 \div 3 = 6$   
 ⑯  $56 \div 7 = 8$     ⑰  $35 \div 5 = 7$     ⑱  $42 \div 6 = 7$

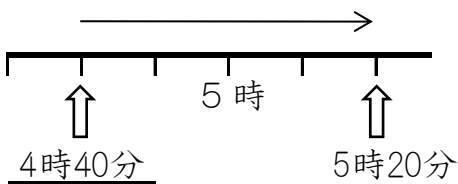
\* 時間や時こくについて 答えなさい。

- ① 24時間 =  日    ② 60分 =  時間  
 ③ 1分よりみじかい時間のたんいに  があります。

1分 =  秒

④

たかしくんは、午後4時40分から、午後5時20分まで犬のさんぽをしました。さんぽした時間は、何分ですか。



- ⑤ 75秒は 何分何秒ですか。   
 ⑥ 90分は 何時間何分ですか。

No.25

3年 組 番 名前( )

- ①  $24 \div 3 = 8$     ②  $15 \div 5 = 3$     ③  $16 \div 4 = 4$   
④  $10 \div 5 = 2$     ⑤  $16 \div 2 = 8$     ⑥  $24 \div 6 = 4$   
⑦  $9 \div 9 = 1$     ⑧  $64 \div 8 = 8$     ⑨  $3 \div 3 = 1$   
⑩  $21 \div 7 = 3$     ⑪  $54 \div 9 = 6$     ⑫  $45 \div 5 = 9$   
⑬  $30 \div 5 = 6$     ⑭  $42 \div 6 = 7$     ⑮  $18 \div 3 = 6$   
⑯  $18 \div 3 = 6$     ⑰  $72 \div 8 = 9$     ⑱  $15 \div 5 = 3$

\* 時間や時こくについて 答えなさい。

- ① 時計のみじかいはりが、1まわりする 時間は、 時間です。  
② 時計のみじかいはりは、1日  回 まわります。  
③ 60分 =  時間                      ④ 24時間 =  日

\* (            ) にあてはまる、時間のたんいを書きましょう。

- ⑤ 50m走るのにかった時間                      10 ( 秒 )  
⑥ 学校のそうじの時間                              20 ( 分 )  
⑦ 朝おきてから夜ねるまでの時間              15 ( 時間 )  
⑧ カップラーメンができる時間                3 ( 分 )

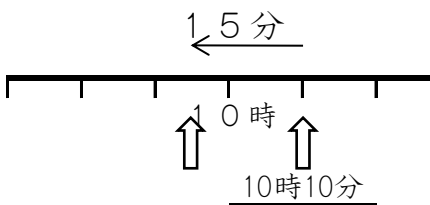
No.26

3年 組 番 名前( )

- ①  $5 \div 1 = 5$     ②  $16 \div 2 = 8$     ③  $49 \div 7 = 7$   
 ④  $32 \div 4 = 8$     ⑤  $42 \div 7 = 6$     ⑥  $12 \div 3 = 4$   
 ⑦  $72 \div 8 = 9$     ⑧  $14 \div 2 = 7$     ⑨  $40 \div 5 = 8$   
 ⑩  $8 \div 2 = 4$     ⑪  $54 \div 6 = 9$     ⑫  $63 \div 7 = 9$   
 ⑬  $12 \div 6 = 2$     ⑭  $56 \div 8 = 7$     ⑮  $25 \div 5 = 5$   
 ⑯  $20 \div 4 = 5$     ⑰  $1 \div 1 = 1$     ⑱  $14 \div 7 = 2$

\* 時間や時刻について 答えなさい。

① ひろしくんは、家を出て15分あるいて、えき（駅）に10時10分につきました。家を出た時刻は、何時何分ですか。



9時55分

② 長いはりが 1まわりする時間は  分間で、 です。

③ 時計のみじかいはりが、1まわりする 時間は  時間です。

③  $60分 =$   $時間$     ④  $60秒 =$   $分$

⑤ 午後4時25分から 30分後の 時刻は、

⑥ 午後4時25分から 30分前の 時刻は、

