

No.21

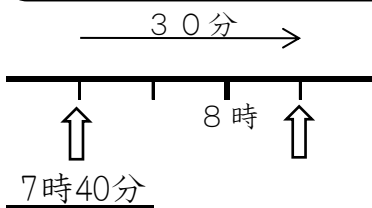
3年 組 番 名前()

- | | | |
|---------------|---------------|---------------|
| ① $8 \div 4$ | ② $18 \div 2$ | ③ $16 \div 4$ |
| ④ $10 \div 2$ | ⑤ $48 \div 8$ | ⑥ $20 \div 5$ |
| ⑦ $18 \div 3$ | ⑧ $81 \div 9$ | ⑨ $21 \div 7$ |
| ⑩ $28 \div 4$ | ⑪ $27 \div 3$ | ⑫ $64 \div 8$ |
| ⑬ $56 \div 7$ | ⑭ $42 \div 6$ | ⑮ $30 \div 6$ |
| ⑯ $21 \div 7$ | ⑰ $30 \div 5$ | ⑱ $20 \div 4$ |

* 時間や時こくについて 答えなさい。

- ① 1日 = 時間 ② 1時間 = 分
- ③ 1分よりみじかい時間のたんいに があります。
- 1分 = 秒

- ④ 家を7時40分に出て、30分歩いて学校につきました。ついた時こくは何時何分ですか。



- ⑤ 80秒は 何分何秒ですか。

- ⑥ 95秒は何分何秒ですか。

No.22

3年 組 番 名前()

① $21 \div 7$

② $24 \div 6$

③ $18 \div 2$

④ $9 \div 3$

⑤ $8 \div 4$

⑥ $42 \div 7$

⑦ $40 \div 8$

⑧ $28 \div 7$

⑨ $45 \div 9$

⑩ $12 \div 6$

⑪ $30 \div 6$

⑫ $64 \div 8$

⑬ $3 \div 3$

⑭ $10 \div 2$

⑮ $9 \div 3$

⑯ $45 \div 9$

⑰ $48 \div 8$

⑱ $63 \div 9$

* 時間や時こくについて 答えなさい。

① 長いはりが 1目もり すすむ 時間を といいます。

② 長いはりが 1まわりする時間は 分間で です。

③ 1日 = 時間

④ 1時間 = 分

* () にあてはまる, 時間のたんいを書きましょう。

⑤ 算数のじゅぎょうの時間 45 ()

⑥ 1日にねる時間 9 ()

⑦ テレビコマーシャルの時間 15 ()

⑧ 授業の間の休けい時間 3 ()

No.23

3年 組 番 名前()

① $45 \div 9$

② $15 \div 3$

③ $4 \div 1$

④ $30 \div 6$

⑤ $40 \div 8$

⑥ $42 \div 6 =$

⑦ $24 \div 3$

⑧ $48 \div 6$

⑨ $36 \div 6$

⑩ $7 \div 7$

⑪ $15 \div 5$

⑫ $4 \div 4$

⑬ $16 \div 8$

⑭ $56 \div 7$

⑮ $12 \div 2$

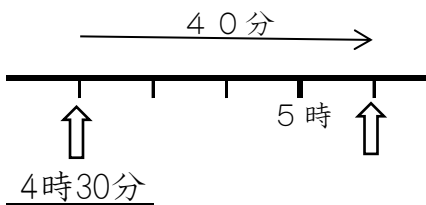
⑯ $42 \div 6$

⑰ $35 \div 7$

⑱ $32 \div 8$

* 時間や時こくについて 答えなさい。

① 午後4時30分からお家で40分間おべんきょうをしました。おわった時こくは、午後何時何分ですか。



② 長いはりが 1まわりする時間は 分間で、 です。

③ 時計のみじかいはりが、1まわりする時間は、 時間です。

④ 1時間 = 分 ⑤ 1分 = 秒

⑥ 午前9時10分から 20分後の時刻は、

⑦ 午前9時10分から 20分前の時刻は、

No.24

3年 組 番 名前()

① $32 \div 4$

② $36 \div 6$

③ $28 \div 4$

④ $12 \div 2$

⑤ $56 \div 7$

⑥ $18 \div 3$

⑦ $32 \div 4$

⑧ $4 \div 2$

⑨ $27 \div 9$

⑩ $48 \div 8$

⑪ $63 \div 7$

⑫ $32 \div 4$

⑬ $27 \div 9$

⑭ $36 \div 6$

⑮ $18 \div 3$

⑯ $56 \div 7$

⑰ $35 \div 5$

⑱ $42 \div 6$

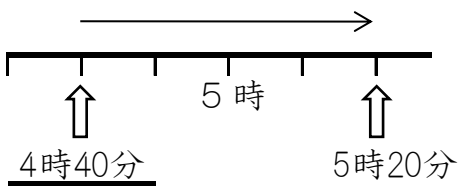
* 時間や時こくについて 答えなさい。

① 24時間 = 日 ② 60分 = 時間

③ 1分よりみじかい時間のたんいに があります。

1分 = 秒

④ たかしくんは、午後4時40分から、午後5時20分まで犬のさんぽをしました。さんぽした時間は、何分ですか。



⑤ 75秒は 何分何秒ですか。

⑥ 90分は 何時間何分ですか。

No.25

3年 組 番 名前()

① $24 \div 3$

② $15 \div 5$

③ $16 \div 4$

④ $10 \div 5$

⑤ $16 \div 2$

⑥ $24 \div 6$

⑦ $9 \div 9$

⑧ $64 \div 8$

⑨ $3 \div 3$

⑩ $21 \div 7$

⑪ $54 \div 9$

⑫ $45 \div 5$

⑬ $30 \div 5$

⑭ $42 \div 6$

⑮ $18 \div 3$

⑯ $18 \div 3$

⑰ $72 \div 8$

⑱ $15 \div 5$

* 時間や時こくについて 答えなさい。

① 時計のみじかいはりが、1まわりする時間は、時間です。

② 時計のみじかいはりは、1日 回まわります。

③ 60分 = 時間

④ 24時間 = 日

* () にあてはまる、時間のたんいを書きましょう。

⑤ 50m走るのにかった時間 10 ()

⑥ 学校のそうじの時間 20 ()

⑦ 朝おきてから夜ねるまでの時間 15 ()

⑧ カップラーメンができる時間 3 ()

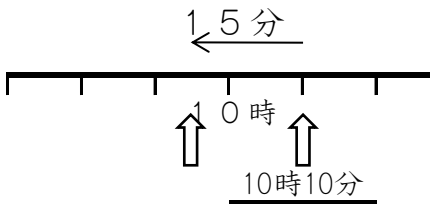
No.26

3年 組 番 名前()

- | | | |
|---------------|---------------|---------------|
| ① $5 \div 1$ | ② $16 \div 2$ | ③ $49 \div 7$ |
| ④ $32 \div 4$ | ⑤ $42 \div 7$ | ⑥ $12 \div 3$ |
| ⑦ $72 \div 8$ | ⑧ $14 \div 2$ | ⑨ $40 \div 5$ |
| ⑩ $8 \div 2$ | ⑪ $54 \div 6$ | ⑫ $63 \div 7$ |
| ⑬ $12 \div 6$ | ⑭ $56 \div 8$ | ⑮ $25 \div 5$ |
| ⑯ $20 \div 4$ | ⑰ $1 \div 1$ | ⑱ $14 \div 7$ |

* 時間や時こくについて 答えなさい。

① ひろしくんは、家を出て15分あるいて、えき(駅)に10時10分につきました。家を出た時こくは、何時何分ですか。



② 長いはりが 1まわりする時間は 分間で、 です。

③ 時計のみじかいはりが、1まわりする 時間は 時間です。

③ $60分 =$ 時間 ④ $60秒 =$ 分

⑤ 午後4時25分から 30分後の 時刻は、

⑥ 午後4時25分から 30分前の 時刻は、

